

# Тренировочная работа по ИНФОРМАТИКЕ

9 класс

6 марта 2017 года

Вариант ИН90403

Выполнена: ФИО \_\_\_\_\_ класс \_\_\_\_\_

## Инструкция по выполнению работы

Работа состоит из двух частей, включающих в себя 20 заданий. Часть 1 содержит 18 заданий с кратким ответом, часть 2 содержит 2 задания, которые необходимо выполнить на компьютере.

На выполнение работы по информатике отводится 2 часа 30 минут (150 минут). К выполнению заданий части 2 можно перейти, только сдав выполненные задания части 1. Вы можете самостоятельно определять время, которое отводите на выполнение заданий части 1, но рекомендуемое время – 1 час 15 минут (75 минут) и на выполнение заданий части 2 также 1 час 15 минут (75 минут).

При выполнении заданий части 1 **нельзя** пользоваться компьютером, калькулятором, справочной литературой.

Ответы к заданиям 1–6 записываются в виде одной цифры, которая соответствует номеру правильного ответа. Эту цифру запишите в поле ответа в тексте работы.

Ответы к заданиям 7–18 записываются в виде числа, последовательности букв или цифр. Ответ запишите в поле ответа в тексте работы. Если в задании в качестве ответа требуется записать последовательность цифр или букв, следует указать только эту последовательность без пробелов, запятых и других дополнительных символов.

Часть 2 содержит 2 задания (19, 20). Результатом выполнения каждого из этих заданий является отдельный файл. Формат файла, его имя и каталог для сохранения Вам сообщат организаторы работы.

При выполнении заданий можно пользоваться черновиком. Записи в черновике не учитываются при оценивании работы.

Баллы, полученные Вами за выполненные задания, суммируются.

Постарайтесь выполнить как можно больше заданий и набрать наибольшее количество баллов.

***Желаем успеха!***

## Часть 1

*При выполнении заданий 1–6 в поле ответа запишите одну цифру, которая соответствует номеру правильного ответа.*

**1** В кодировке КОИ-8 каждый символ кодируется одним байтом. Определите количество символов в сообщении, если информационный объём сообщения в этой кодировке равен 120 бит.

- 1) 10                      2) 12                      3) 15                      4) 120

Ответ:

**2** Для какого из указанных значений числа  $X$  истинно высказывание:  $(X > 1) \text{ И } (X > 2) \text{ И } (X \neq 3)$ ?

- 1) 1                      2) 2                      3) 3                      4) 4

Ответ:

**3** Между населёнными пунктами А, В, С, D, Е построены дороги, протяжённость которых (в километрах) приведена в таблице.

	А	В	С	D	Е
А		4			
В	4		4		1
С		4		1	2
D			1		3
Е		1	2	3	

Определите длину кратчайшего пути между пунктами А и D. Передвигаться можно только по дорогам, протяжённость которых указана в таблице.

- 1) 7                      2) 8                      3) 9                      4) 10

Ответ:

4 Пользователь работал с каталогом **C:\Проект\Задание**. Сначала он поднялся на один уровень вверх, затем спустился в каталог **Практика**, далее ещё раз поднялся на один уровень вверх и после этого спустился в каталог **Теория**. Укажите полный путь каталога, в котором оказался пользователь.

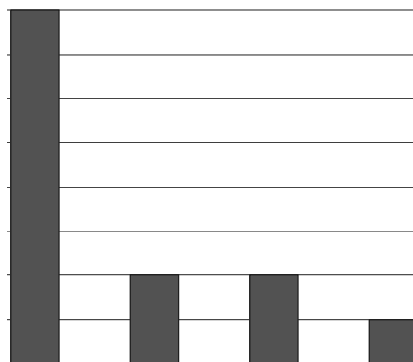
- 1) C:\Проект\Теория
- 2) C:\Проект\Задание\Теория
- 3) C:\Теория
- 4) C:\Теория\Практика

Ответ:

5 Дан фрагмент электронной таблицы.

	<b>A</b>	<b>B</b>	<b>C</b>	<b>D</b>	<b>E</b>	<b>F</b>	<b>G</b>
<b>1</b>	12		4		3		
<b>2</b>	=A1+C1	=A1-C1	=C1*2	=A1/E1	=C1	=C1/2	=C1-E1

После выполнения вычислений по некоторым ячейкам диапазона A2:G2 была построена диаграмма. Укажите адреса этих ячеек.



- 1) A2; B2; C2; D2
- 2) A2; D2; E2; F2
- 3) A2; D2; E2; G2
- 4) B2; E2; F2; G2

Ответ:

**6** Исполнитель Черепашка перемещается на экране компьютера, оставляя след в виде линии. В каждый конкретный момент известно положение исполнителя и направление его движения. У исполнителя существуют две команды:

**Вперёд  $n$**  (где  $n$  – целое число), вызывающая передвижение Черепашки на  $n$  шагов в направлении движения.

**Направо  $m$**  (где  $m$  – целое число), вызывающая изменение направления движения на  $m$  градусов по часовой стрелке.

Запись **Повтори  $k$  [Команда1 Команда2 Команда3]** означает, что последовательность команд в скобках повторится  $k$  раз.

Черепашке был дан для исполнения следующий алгоритм:

**Повтори 360 раз [Вперёд 30 Направо 60]**

Какая фигура появится на экране?

- 1) правильный 360-угольник
- 2) правильный треугольник
- 3) правильный шестиугольник
- 4) незамкнутая ломаная линия

Ответ:

**7** От разведчика была получена следующая шифрованная радиограмма, переданная с использованием азбуки Морзе:

– • – – – • – – • • • •

При передаче радиограммы было потеряно разбиение на буквы, но известно, что в радиограмме использовались только следующие буквы:

Е	Н	О	З	Щ
•	– •	– – –	– – • •	– – • –

Определите текст радиограммы. В ответе укажите, сколько букв было в исходной радиограмме.

Ответ: \_\_\_\_\_.

8

В программе «:=» обозначает оператор присваивания, знаки «+», «-», «\*» и «/» – соответственно операции сложения, вычитания, умножения и деления. Правила выполнения операций и порядок действий соответствуют правилам арифметики.

Определите значение переменной b после выполнения данного алгоритма:

a := 5

b := 18

a := b - a \* 3

b := 24 / a \* 4

В ответе укажите одно целое число – значение переменной b.

Ответ: \_\_\_\_\_.

9

Определите, что будет напечатано в результате работы следующей программы. Текст программы приведён на трёх языках программирования.

Алгоритмический язык	Бейсик	Паскаль
<u>алг</u> <u>нач</u> <u>цел</u> s, k s := 0 <u>нц</u> <u>для</u> k <u>от</u> 4 <u>до</u> 7 s := s + 8 <u>кц</u> <u>вывод</u> s <u>кон</u>	DIM k, s AS INTEGER s = 0 FOR k = 4 TO 7 s = s + 8 NEXT k PRINT s END	var s, k: integer; begin s := 0; for k := 4 to 7 do s := s + 8; writeln(s); end.

Ответ: \_\_\_\_\_.

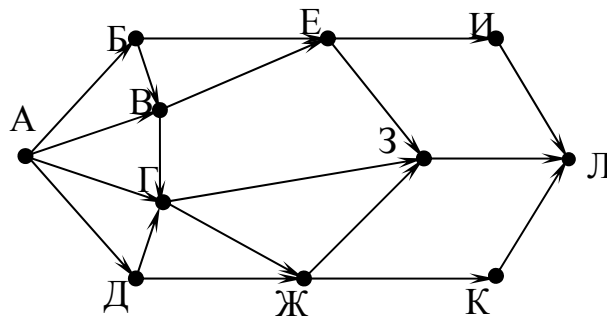
10

В таблице Pos хранятся данные о количестве посетителей школьного музея за семь дней (Pos[1] – данные за первый день, Pos[2] – за второй день и т. д.). Определите число, которое будет напечатано в результате работы следующей программы. Текст программы приведён на трёх языках программирования.

Алгоритмический язык	Бейсик
<pre> алг нач   целтаб Pos[1:7]   цел k, m, day   Pos[1] := 17   Pos[2] := 19   Pos[3] := 20   Pos[4] := 18   Pos[5] := 16   Pos[6] := 20   Pos[7] := 16   day := 1   m := Pos[1]   нц для k от 2 до 7     если Pos[k] &lt; m то       m := Pos[k]       day := k     все   кц   вывод day кон </pre>	<pre> DIM Pos(7) AS INTEGER Pos(1) = 17 Pos(2) = 19 Pos(3) = 20 Pos(4) = 18 Pos(5) = 16 Pos(6) = 20 Pos(7) = 16 day = 1 m = Pos(1) FOR k = 2 TO 7   IF Pos(k) &lt; m THEN     m = Pos(k)     day = k   END IF NEXT k PRINT day END </pre>
Паскаль	
<pre> var k, m, day: integer;     Pos: array[1..7] of integer; begin   Pos[1] := 17;   Pos[2] := 19;   Pos[3] := 20;   Pos[4] := 18;   Pos[5] := 16;   Pos[6] := 20;   Pos[7] := 16;   day := 1; m := Pos[1];   for k := 2 to 7 do     if Pos[k] &lt; m then       begin         m := Pos[k];         day := k;       end;   end;   write(day); end. </pre>	

Ответ: \_\_\_\_\_.

- 11** На рисунке – схема дорог, связывающих города А, Б, В, Г, Д, Е, Ж, З, И, К и Л. По каждой дороге можно двигаться только в одном направлении, указанном стрелкой. Сколько существует различных путей из города А в город Л?



Ответ: \_\_\_\_\_.

- 12** Ниже в табличной форме представлен фрагмент базы данных о реках мира.

Название реки	Часть света	Протяжённость (км)	Площадь бассейна (тыс. км <sup>2</sup> )
Лена	Азия	4320	2418
Волга	Европа	3690	1380
Инди-Ганг	Азия	1790	360
Терек	Европа	626	44
Нева	Европа	74	282
Нигер	Африка	4160	2092
Инд	Азия	3180	980
Луара	Европа	1020	115

Сколько записей в данном фрагменте удовлетворяют условию **(Часть света = «Европа») И (Площадь бассейна (тыс. км<sup>2</sup>) < 200)**? В ответе укажите одно число – искомое количество записей.

Ответ: \_\_\_\_\_.

- 13** Переведите число 130 из десятичной системы счисления в двоичную систему счисления. Сколько единиц содержит полученное число? В ответе укажите одно число – количество единиц.

Ответ: \_\_\_\_\_.

**14** У исполнителя Делитель две команды, которым присвоены номера:

**1. раздели на 2**

**2. вычти 1**

Первая из них уменьшает число на экране в 2 раза, вторая уменьшает его на 1.

Исполнитель работает только с натуральными числами.

Составьте алгоритм получения **из числа 65 числа 4**, содержащий не более пяти команд. В ответе запишите только номера команд.

*(Например, 12112 – это алгоритм:*

*раздели на 2*

*вычти 1*

*раздели на 2*

*раздели на 2*

*вычти 1,*

*который преобразует число 42 в число 4.)*

Если таких алгоритмов более одного, то запишите любой из них.

Ответ: \_\_\_\_\_.

**15** Передача файла размером 3750 Кбайт через некоторое соединение заняла 2 минуты. Какова скорость передачи данных через это соединение в битах в секунду?

В ответе укажите одно число – длительность передачи в секундах. Единицы измерения писать не нужно.

Ответ: \_\_\_\_\_.

**16** Цепочка из трёх бусин, помеченных латинскими буквами, формируется по следующему правилу:

– в конце цепочки стоит одна из бусин E, A, C;

– на первом месте – одна из бусин H, A, C, D, которой нет на третьем месте;

– на втором месте – одна из бусин H, E, D, не стоящая на первом месте.

Определите, сколько из перечисленных цепочек созданы по этому правилу?

HNA CAE CEE ANA EDC ANC HAC AEN DEC

В ответе запишите только количество цепочек.

Ответ: \_\_\_\_\_.



**17** Доступ к файлу **img.bmp**, находящемуся на сервере **pic.kz**, осуществляется по протоколу **http**. Фрагменты адреса файла закодированы цифрами от 1 до 7. Запишите последовательность этих цифр, кодирующую адрес указанного файла в сети Интернет.

- 1) img
- 2) /
- 3) kz
- 4) ://
- 5) http
- 6) .bmp
- 7) pic.

Ответ:

--	--	--	--	--	--	--	--

**18** В таблице приведены запросы к поисковому серверу. Для каждого запроса указан его код – соответствующая буква от А до Г. Расположите коды запросов в порядке **возрастания** количества страниц, которые нашёл поисковый сервер по каждому запросу. По всем запросам было найдено разное количество страниц.

Для обозначения логической операции «ИЛИ» в запросе используется символ «|», а для логической операции «И» – символ «&».

Код	Запрос
А	Лермонтов
Б	Лермонтов & Пушкин
В	Лермонтов   Пушкин
Г	Лермонтов   Пушкин   Баратынский

Ответ:

--	--	--	--

**Часть 2**

*Задания этой части (19, 20) выполняются на компьютере. Результатом выполнения задания является отдельный файл (для одного задания – один файл). Формат файла, его имя и каталог для сохранения Вам сообщат организаторы работы.*

- 19** В электронную таблицу занесли данные о калорийности продуктов. Ниже приведены первые пять строк таблицы.

	<b>А</b>	<b>В</b>	<b>С</b>	<b>Д</b>	<b>Е</b>
<b>1</b>	Продукт	Жиры, г	Белки, г	Углеводы, г	Калорийность, Ккал
<b>2</b>	Арахис	45,2	26,3	9,9	552
<b>3</b>	Арахис жареный	52	26	13,4	626
<b>4</b>	Горох отварной	0,8	10,5	20,4	130
<b>5</b>	Горошек зелёный	0,2	5	8,3	55

В столбце А записан продукт; в столбце В – содержание в нём жиров; в столбце С – содержание белков; в столбце Д – содержание углеводов и в столбце Е – калорийность этого продукта.

Всего в электронную таблицу были занесены данные по 1000 продуктам.

**Выполните задание**

Откройте файл с данной электронной таблицей (расположение файла Вам сообщат организаторы работы). На основании данных, содержащихся в этой таблице, ответьте на два вопроса.

1. Сколько продуктов в таблице содержат меньше 25 г жиров и меньше 25 г белков? Запишите число этих продуктов в ячейку Н2 таблицы.
2. Какова средняя калорийность продуктов с содержанием углеводов более 50 г? Ответ на этот вопрос запишите в ячейку Н3 таблицы с точностью не менее двух знаков после запятой.

Полученную таблицу необходимо сохранить под именем, указанным организаторами работы.

**Выберите ОДНО из предложенных ниже заданий: 20.1 или 20.2.**

**20.1** Исполнитель Робот умеет перемещаться по лабиринту, начерченному на плоскости, разбитой на клетки. Между соседними (по сторонам) клетками может стоять стена, через которую Робот пройти не может.  
У Робота есть девять команд. Четыре команды – это команды-приказы:

**вверх вниз влево вправо**

При выполнении любой из этих команд Робот перемещается на одну клетку соответственно: вверх ↑, вниз ↓, влево ←, вправо →. Если Робот получит команду передвижения сквозь стену, то он разрушится.

Также у Робота есть команда **закрасить**, при которой закрашивается клетка, в которой Робот находится в настоящий момент.

Ещё четыре команды – это команды проверки условий. Эти команды проверяют, свободен ли путь для Робота в каждом из четырёх возможных направлений:

**сверху свободно снизу свободно слева свободно справа свободно**

Эти команды можно использовать вместе с условием «если», имеющим следующий вид:

**если условие то**

*последовательность команд*

**все**

Здесь *условие* – одна из команд проверки условия.

*Последовательность команд* – это одна или несколько любых команд-приказов.

Например, для передвижения на одну клетку вправо, если справа нет стенки, и закрашивания клетки, можно использовать такой алгоритм:

**если справа свободно то**

**вправо**

**закрасить**

**все**

В одном условии можно использовать несколько команд проверки условий, применяя логические связки **и**, **или**, **не**, например:

**если (справа свободно) и (не снизу свободно) то**

**вправо**

**все**

Для повторения последовательности команд можно использовать цикл «пока», имеющий следующий вид:

**нц пока условие**

*последовательность команд*

**кц**

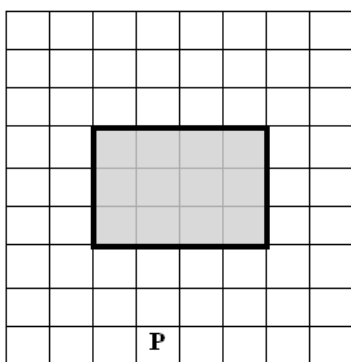
Например, для движения вправо, пока это возможно, можно использовать следующий алгоритм:

**нц пока справа свободно  
вправо  
кц**

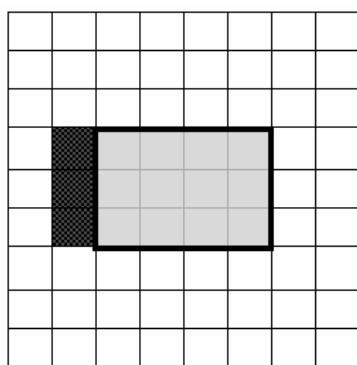
***Выполните задание.***

На бесконечном поле имеется препятствие прямоугольной формы. **Размеры** препятствия неизвестны. Робот находится в какой-либо клетке, расположенной строго под препятствием.

На рисунке указан один из возможных способов расположения препятствия и Робота (Робот обозначен буквой «Р»).



Напишите для Робота алгоритм, закрашивающий клетки, расположенные левее от прямоугольного препятствия и прилегающие к нему. Робот должен закрасить только клетки, удовлетворяющие данному условию. Например, для приведённого выше рисунка Робот должен закрасить следующие клетки (см. рисунок).



Конечное расположение Робота может быть произвольным. Алгоритм должен решать задачу для произвольного размера поля и любого допустимого расположения стен внутри прямоугольного поля. При исполнении алгоритма Робот не должен разрушиться.

Алгоритм может быть выполнен в среде формального исполнителя или записан в текстовом редакторе.

Сохраните алгоритм в формате программы КуМир или в текстовом файле. Название файла и каталог для сохранения Вам сообщат организаторы работы.

**20.2**

Напишите программу для решения следующей задачи.

Ученики 4 класса вели дневники наблюдения за погодой и ежедневно записывали дневную температуру. Найдите среднюю температуру для дней, когда столбик термометра поднимался выше нуля градусов. Определите количество таких дней. Гарантируется, что за время наблюдения хотя бы в один из дней температура поднималась выше нуля градусов.

Программа получает на вход количество дней, в течение которых проводилось наблюдение  $N$  ( $1 \leq N \leq 31$ ), затем для каждого дня вводится температура.

**Пример работы программы:**

<b>Входные данные</b>	<b>Выходные данные</b>
4	10.0
-5	2
12	
-2	
8	

# Тренировочная работа по ИНФОРМАТИКЕ

9 класс

6 марта 2017 года

Вариант ИН90404

Выполнена: ФИО \_\_\_\_\_ класс \_\_\_\_\_

## Инструкция по выполнению работы

Работа состоит из двух частей, включающих в себя 20 заданий. Часть 1 содержит 18 заданий с кратким ответом, часть 2 содержит 2 задания, которые необходимо выполнить на компьютере.

На выполнение работы по информатике отводится 2 часа 30 минут (150 минут). К выполнению заданий части 2 можно перейти, только сдав выполненные задания части 1. Вы можете самостоятельно определять время, которое отводите на выполнение заданий части 1, но рекомендуемое время – 1 час 15 минут (75 минут) и на выполнение заданий части 2 также 1 час 15 минут (75 минут).

При выполнении заданий части 1 **нельзя** пользоваться компьютером, калькулятором, справочной литературой.

Ответы к заданиям 1–6 записываются в виде одной цифры, которая соответствует номеру правильного ответа. Эту цифру запишите в поле ответа в тексте работы.

Ответы к заданиям 7–18 записываются в виде числа, последовательности букв или цифр. Ответ запишите в поле ответа в тексте работы. Если в задании в качестве ответа требуется записать последовательность цифр или букв, следует указать только эту последовательность без пробелов, запятых и других дополнительных символов.

Часть 2 содержит 2 задания (19, 20). Результатом выполнения каждого из этих заданий является отдельный файл. Формат файла, его имя и каталог для сохранения Вам сообщат организаторы работы.

При выполнении заданий можно пользоваться черновиком. Записи в черновике не учитываются при оценивании работы.

Баллы, полученные Вами за выполненные задания, суммируются.

Постарайтесь выполнить как можно больше заданий и набрать наибольшее количество баллов.

***Желаем успеха!***

**Часть 1**

*При выполнении заданий 1–6 в поле ответа запишите одну цифру, которая соответствует номеру правильного ответа.*

**1** В кодировке КОИ-8 каждый символ кодируется одним байтом. Определите количество символов в сообщении, если информационный объём сообщения в этой кодировке равен 80 бит.

- 1) 4                      2) 8                      3) 10                      4) 80

Ответ:

**2** Для какого из указанных значений числа  $X$  истинно высказывание:  $(X < 4) \text{ И } (X > 1) \text{ И } (X \neq 2)$ ?

- 1) 1                      2) 2                      3) 3                      4) 4

Ответ:

**3** Между населёнными пунктами А, В, С, D, Е построены дороги, протяжённость которых (в километрах) приведена в таблице.

	A	B	C	D	E
A		2	5		6
B	2		2		
C	5	2		6	1
D			6		4
E	6		1	4	

Определите длину кратчайшего пути между пунктами А и D. Передвигаться можно только по дорогам, протяжённость которых указана в таблице.

- 1) 7                      2) 8                      3) 9                      4) 10

Ответ:

4 Пользователь работал с каталогом **C:\Учёба\Математика\Задания**. Сначала он поднялся на один уровень вверх, затем ещё раз поднялся на один уровень вверх и после этого спустился в каталог **Биология**, далее спустился в каталог **Оценки**. Укажите полный путь каталога, в котором оказался пользователь.

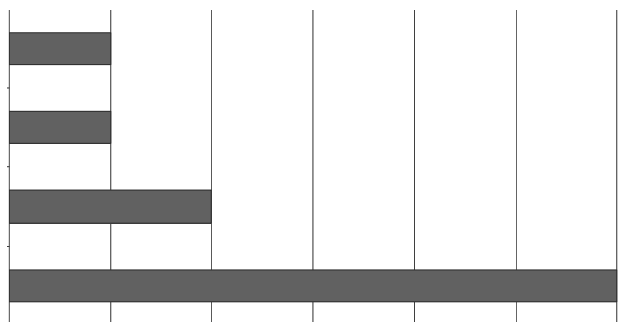
- 1) C:\Биология\Оценки
- 2) C:\Оценки\Биология
- 3) C:\Учёба\Математика\Биология\Оценки
- 4) C:\Учёба\Биология\Оценки

Ответ:

5 Дан фрагмент электронной таблицы.

	<b>A</b>	<b>B</b>	<b>C</b>	<b>D</b>	<b>E</b>	<b>F</b>	<b>G</b>
<b>1</b>	12		4		3		
<b>2</b>	=C1*E1	=A1-C1	=C1*2	=A1/E1	=E1	=C1/2	=F2

После выполнения вычислений по некоторым ячейкам диапазона A2:G2 была построена диаграмма. Укажите адреса этих ячеек.



- 1) A2; B2; C2; G2
- 2) A2; D2; F2; G2
- 3) A2; E2; F2; G2
- 4) B2; D2; E2; F2

Ответ:



**6** Исполнитель Черепашка перемещается на экране компьютера, оставляя след в виде линии. В каждый конкретный момент известно положение исполнителя и направление его движения. У исполнителя существуют две команды:

**Вперёд  $n$**  (где  $n$  – целое число), вызывающая передвижение Черепашки на  $n$  шагов в направлении движения.

**Направо  $m$**  (где  $m$  – целое число), вызывающая изменение направления движения на  $m$  градусов по часовой стрелке.

Запись **Повтори  $k$  [Команда1 Команда2 Команда3]** означает, что последовательность команд в скобках повторится  $k$  раз.

Черепашке был дан для исполнения следующий алгоритм:

**Повтори 180 раз [Вперёд 45 Направо 90]**

Какая фигура появится на экране?

- 1) правильный 180-угольник
- 2) квадрат
- 3) правильный восьмиугольник
- 4) незамкнутая ломаная линия

Ответ:

**7** От разведчика была получена следующая шифрованная радиограмма, переданная с использованием азбуки Морзе:

– • • • – – – •

При передаче радиограммы было потеряно разбиение на буквы, но известно, что в радиограмме использовались только следующие буквы:

Е	Н	О	З	Щ
•	– •	– – –	– – • •	– – • –

Определите текст радиограммы. В ответе укажите, сколько букв было в исходной радиограмме.

Ответ: \_\_\_\_\_.

**8** В программе «:=» обозначает оператор присваивания, знаки «+», «-», «\*» и «/» – соответственно операции сложения, вычитания, умножения и деления. Правила выполнения операций и порядок действий соответствуют правилам арифметики.

Определите значение переменной *b* после выполнения данного алгоритма:

```
a := 3
b := 11
a := b - a * 2
b := 50 / a * 4
```

В ответе укажите одно целое число – значение переменной *b*.

Ответ: \_\_\_\_\_.

**9** Определите, что будет напечатано в результате работы следующей программы. Текст программы приведён на трёх языках программирования.

Алгоритмический язык	Бейсик	Паскаль
<u>алг</u> <u>нач</u> <u>цел</u> <i>s</i> , <i>k</i> <i>s</i> := 0 <u>нц</u> <u>для</u> <i>k</i> <u>от</u> 3 <u>до</u> 8 <i>s</i> := <i>s</i> + 9 <u>кц</u> <u>вывод</u> <i>s</i> <u>кон</u>	DIM <i>k</i> , <i>s</i> AS INTEGER <i>s</i> = 0 FOR <i>k</i> = 3 TO 8 <i>s</i> = <i>s</i> + 9 NEXT <i>k</i> PRINT <i>s</i> END	var <i>s</i> , <i>k</i> : integer; begin <i>s</i> := 0; for <i>k</i> := 3 to 8 do <i>s</i> := <i>s</i> + 9; writeln( <i>s</i> ); end.

Ответ: \_\_\_\_\_.

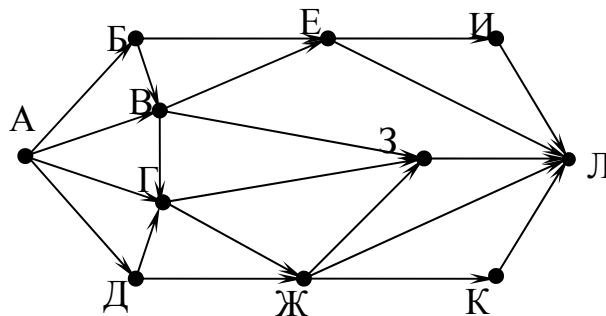
10

В таблице Pos хранятся данные о количестве посетителей школьного музея за семь дней (Pos[1] – данные за первый день, Pos[2] – за второй день и т. д.). Определите число, которое будет напечатано в результате работы следующей программы. Текст программы приведён на трёх языках программирования.

Алгоритмический язык	Бейсик
<pre> алг нач   целтаб Pos[1:7]   цел k, m, day   Pos[1] := 17   Pos[2] := 19   Pos[3] := 20   Pos[4] := 18   Pos[5] := 16   Pos[6] := 20   Pos[7] := 16   day := 1   m := Pos[1]   нц для k от 2 до 7     если Pos[k] &gt; m то       m := Pos[k]       day := k     все   кц   вывод day кон </pre>	<pre> DIM Pos(7) AS INTEGER Pos(1) = 17 Pos(2) = 19 Pos(3) = 20 Pos(4) = 18 Pos(5) = 16 Pos(6) = 20 Pos(7) = 16 day = 1 m = Pos(1) FOR k = 2 TO 7   IF Pos(k) &gt; m THEN     m = Pos(k)     day = k   END IF NEXT k PRINT day END </pre>
Паскаль	
<pre> var k, m, day: integer;     Pos: array[1..7] of integer; begin   Pos[1] := 17;   Pos[2] := 19;   Pos[3] := 20;   Pos[4] := 18;   Pos[5] := 16;   Pos[6] := 20;   Pos[7] := 16;   day := 1; m := Pos[1];   for k := 2 to 7 do     if Pos[k] &gt; m then       begin         m := Pos[k];         day := k;       end;   end;   write(day); end. </pre>	

Ответ: \_\_\_\_\_.

- 11** На рисунке – схема дорог, связывающих города А, Б, В, Г, Д, Е, Ж, З, И, К и Л. По каждой дороге можно двигаться только в одном направлении, указанном стрелкой. Сколько существует различных путей из города А в город Л?



Ответ: \_\_\_\_\_.

- 12** Ниже в табличной форме представлен фрагмент базы данных о реках мира.

Название реки	Часть света	Протяжённость (км)	Площадь бассейна (тыс. км <sup>2</sup> )
Лена	Азия	4320	2418
Волга	Европа	3690	1380
Инди-Ганг	Азия	1790	360
Терек	Европа	626	44
Нева	Европа	74	282
Нигер	Африка	4160	2092
Инд	Азия	3180	980
Луара	Европа	1020	115

Сколько записей в данном фрагменте удовлетворяют условию **(Часть света = «Европа») И (Протяжённость (км) > 626)**?

В ответе укажите одно число – искомое количество записей.

Ответ: \_\_\_\_\_.

- 13** Переведите число 126 из десятичной системы счисления в двоичную систему счисления. Сколько значащих нулей содержит полученное число?

В ответе укажите одно число – количество нулей.

Ответ: \_\_\_\_\_.

**14** У исполнителя Делитель две команды, которым присвоены номера:

**1. раздели на 2**

**2. прибавь 1**

Первая из них уменьшает число на экране в 2 раза, вторая увеличивает его на 1.

Исполнитель работает только с натуральными числами.

Составьте алгоритм получения из числа **89** числа **24**, содержащий не более пяти команд. В ответе запишите только номера команд.

*(Например, 21121 – это алгоритм:*

*прибавь 1*

*раздели на 2*

*раздели на 2*

*прибавь 1*

*раздели на 2,*

*который преобразует число 75 в число 10.)*

Если таких алгоритмов более одного, то запишите любой из них.

Ответ: \_\_\_\_\_.

**15** Передача файла размером 375 Кбайт через некоторое соединение заняла 24 секунды. Какова скорость передачи данных через это соединение в битах в секунду?

В ответе укажите одно число – скорость передачи в битах в секунду. Единицы измерения писать не нужно.

Ответ: \_\_\_\_\_.

**16** Цепочка из трёх бусин, помеченных латинскими буквами, формируется по следующему правилу:

– в начале цепочки стоит одна из бусин E, A, C;

– на третьем месте – одна из бусин H, C, E, D, которой нет на первом месте;

– в середине – одна из бусин H, A, C, D, не стоящая на третьем месте.

Определите, сколько из перечисленных цепочек созданы по этому правилу.

ЕНА ССD ЕСЕ СНН АНС АСD ЕАС ЕСА ЕНD

В ответе запишите только количество цепочек.

Ответ: \_\_\_\_\_.

17 Доступ к файлу **name.gif**, находящемуся на сервере **jour.com**, осуществляется по протоколу **ftp**. Фрагменты адреса файла закодированы цифрами от 1 до 7. Запишите последовательность этих цифр, кодирующую адрес указанного файла в сети Интернет.

- 1) .com
- 2) ftp
- 3) jour
- 4) /
- 5) ://
- 6) .gif
- 7) name

Ответ:

--	--	--	--	--	--	--	--

18 В таблице приведены запросы к поисковому серверу. Для каждого запроса указан его код – соответствующая буква от А до Г. Расположите коды запросов в порядке **возрастания** количества страниц, которые нашёл поисковый сервер по каждому запросу. По всем запросам было найдено разное количество страниц.

Для обозначения логической операции «ИЛИ» в запросе используется символ «|», а для логической операции «И» – символ «&».

Код	Запрос
А	Пушкин
Б	Пушкин & Лермонтов & Жуковский
В	Пушкин & Лермонтов
Г	Пушкин   Лермонтов

Ответ:

--	--	--	--

**Часть 2**

**Задания этой части (19, 20) выполняются на компьютере. Результатом выполнения задания является отдельный файл (для одного задания – один файл). Формат файла, его имя и каталог для сохранения Вам сообщат организаторы работы.**

**19** В электронную таблицу занесли данные о калорийности продуктов. Ниже приведены первые пять строк таблицы.

	<b>A</b>	<b>B</b>	<b>C</b>	<b>D</b>	<b>E</b>
<b>1</b>	Продукт	Жиры, г	Белки, г	Углеводы, г	Калорийность, Ккал
<b>2</b>	Арахис	45,2	26,3	9,9	552
<b>3</b>	Арахис жареный	52	26	13,4	626
<b>4</b>	Горох отварной	0,8	10,5	20,4	130
<b>5</b>	Горошек зелёный	0,2	5	8,3	55

В столбце А записан продукт; в столбце В – содержание в нём жиров; в столбце С – содержание белков; в столбце D – содержание углеводов и в столбце E – калорийность этого продукта.

Всего в электронную таблицу были занесены данные по 1000 продуктам.

**Выполните задание**

Откройте файл с данной электронной таблицей (расположение файла Вам сообщат организаторы работы). На основании данных, содержащихся в этой таблице, ответьте на два вопроса.

1. Сколько продуктов в таблице содержат меньше 50 г углеводов и меньше 50 г белков? Запишите число этих продуктов в ячейку H2 таблицы.
2. Какова средняя калорийность продуктов с содержанием жиров менее 1 г? Ответ на этот вопрос запишите в ячейку H3 таблицы с точностью не менее двух знаков после запятой.

Полученную таблицу необходимо сохранить под именем, указанным организаторами работы.

**Выберите ОДНО из предложенных ниже заданий: 20.1 или 20.2.**

**20.1** Исполнитель Робот умеет перемещаться по лабиринту, начерченному на плоскости, разбитой на клетки. Между соседними (по сторонам) клетками может стоять стена, через которую Робот пройти не может.  
У Робота есть девять команд. Четыре команды – это команды-приказы:

**вверх   вниз   влево   вправо**

При выполнении любой из этих команд Робот перемещается на одну клетку соответственно: вверх ↑, вниз ↓, влево ←, вправо →. Если Робот получит команду передвижения сквозь стену, то он разрушится.

Также у Робота есть команда **закрасить**, при которой закрашивается клетка, в которой Робот находится в настоящий момент.

Ещё четыре команды – это команды проверки условий. Эти команды проверяют, свободен ли путь для Робота в каждом из четырёх возможных направлений:

**сверху свободно   снизу свободно   слева свободно   справа свободно**

Эти команды можно использовать вместе с условием «если», имеющим следующий вид:

**если условие то**

*последовательность команд*

**все**

Здесь *условие* – одна из команд проверки условия.

*Последовательность команд* – это одна или несколько любых команд-приказов.

Например, для передвижения на одну клетку вправо, если справа нет стенки, и закрашивания клетки, можно использовать такой алгоритм:

**если справа свободно то**

**вправо**

**закрасить**

**все**

В одном условии можно использовать несколько команд проверки условий, применяя логические связки **и**, **или**, **не**, например:

**если (справа свободно) и (не снизу свободно) то**

**вправо**

**все**

Для повторения последовательности команд можно использовать цикл «пока», имеющий следующий вид:

**нц пока условие**

*последовательность команд*

**кц**



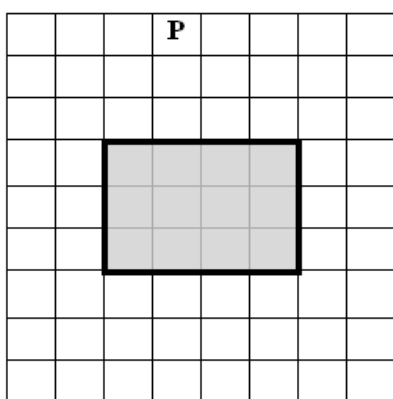
Например, для движения вправо, пока это возможно, можно использовать следующий алгоритм:

**нц пока справа свободно  
вправо  
кц**

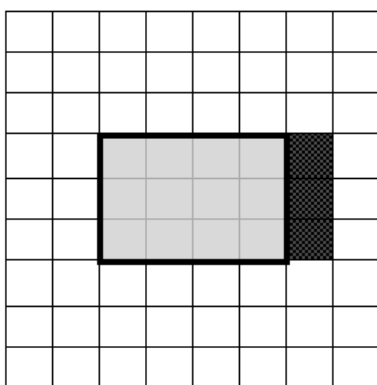
***Выполните задание.***

На бесконечном поле имеется препятствие прямоугольной формы. **Размеры** препятствия неизвестны. Робот находится в какой-либо клетке, расположенной строго над препятствием.

На рисунке указан один из возможных способов расположения препятствия и Робота (Робот обозначен буквой «Р»).



Напишите для Робота алгоритм, закрашивающий клетки, расположенные правее прямоугольного препятствия и прилегающие к нему. Робот должен закрасить только клетки, удовлетворяющие данному условию. Например, для приведённого выше рисунка Робот должен закрасить следующие клетки (см. рисунок).



Конечное расположение Робота может быть произвольным. Алгоритм должен решать задачу для произвольного размера поля и любого допустимого расположения стен внутри прямоугольного поля. При исполнении алгоритма Робот не должен разрушиться.

Алгоритм может быть выполнен в среде формального исполнителя или записан в текстовом редакторе.

Сохраните алгоритм в формате программы КуМир или в текстовом файле. Название файла и каталог для сохранения Вам сообщат организаторы работы.

**20.2** Напишите программу для решения следующей задачи.

Ученики 4 класса вели дневники наблюдения за погодой и ежедневно записывали дневную температуру. Найдите среднюю температуру за время наблюдения. Если количество дней, когда температура поднималась выше нуля градусов, не менее пяти, выведите YES, иначе выведите NO.

Программа получает на вход количество дней, в течение которых проводилось наблюдение  $N$  ( $1 \leq N \leq 31$ ), затем для каждого дня вводится температура.

**Пример работы программы:**

Входные данные	Выходные данные
4 -4 12 -2 8	3.5 NO